



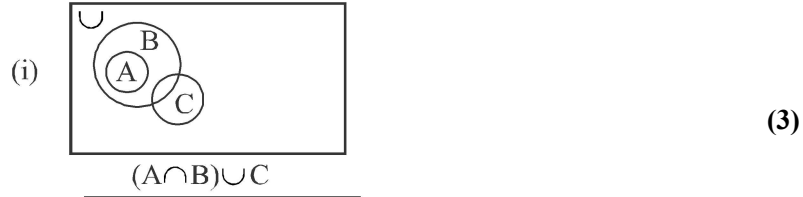
Time: 10 Minutes	Paper Math 8 (T-2)	Total Marks: 10
2nd Month, 2nd Week, 2ndDay		Exercise 1.15 Q # (3)

Q.1. Answer the following questions.

درج ذیل سوالات کے جوابات دیں۔

(i) Shade The diagram according to the situation given below in each diagram.

ہر ڈایا گرام کے نیچے لکھے بیان کے مطابق ڈایا گرام کو رنگ دار کریں۔



Time: 10 Minutes	Paper Math 8 (T-2)	Total Marks: 10
2nd Month, 2nd Week, 2ndDay		Exercise 1.15 Q # (3)

Q.1. Answer the following questions.

درج ذیل سوالات کے جوابات دیں۔

(i) Shade The diagram according to the situation given below in each diagram.

ہر ڈایا گرام کے نیچے لکھے بیان کے مطابق ڈایا گرام کو رنگ دار کریں۔

